

BHARTIYA SHIKSHA BOARD
SAMPLE QUESTION PAPER 2025-26
CLASS - XII
ECONOMICS (144)

TIME: 3 HOURS

M.M. – 80

GENERAL INSTRUCTIONS:

- I. This question paper contains two sections:
Section A – Macro Economics
Section B – Indian Economic Development
- II. This paper contains 20 Multiple Choice Type Questions of 1 mark each.
- III. This paper contains 4 Short Answer Type Questions of 3 marks each to be answered in 60 to 80 words.
- IV. This paper contains 6 Short Answer Type Questions of 4 marks each to be answered in 80 to 100 words.
- V. This paper contains 4 Long Answer Type Questions of 6 marks each to be answered in 100 to 150 words.

Q. No.	Question	Marks
	SECTION A (MACRO ECONOMICS) भाग A (समष्टि अर्थशास्त्र)	
Q1	If the value of Average Propensity to Save (APS) is 0.2 and National Income is ₹ 4000 crores, then consumption will be _____ (Choose the correct alternative)	(1)
	a) ₹ 4000 crores b) ₹ 3200 crores c) ₹ 3800 crores d) ₹ 2600 crores	
1	औसत बचत प्रवृत्ति (APS) का मूल्य 0.2 तथा राष्ट्रीय आय ₹ 4000 करोड़ हो तो उपभोग _____ होगा। (सही विकल्प का चयन करें।)	
	(क) ₹ 4000 करोड़ (ख) ₹ 3200 करोड़ (ग) ₹ 3800 करोड़ (घ) ₹ 2600 करोड़	
Q2	The increase in bank rate is often followed by _____ (Increase / Decrease) in the market rate of Interest.	(1)
	(Fill up the blank with correct alternative)	
2.	बैंक दर में वृद्धि के बाद अक्सर बाजार व्याज दर में _____ (वृद्धि/कमी) होती है। (सही विकल्प द्वारा रिक्त स्थान की पूर्ति करें)	

Q. No.	Question	Marks
Q3	Which of the following is Indirect Tax? (Choose the correct alternative)	(1)
	a) Wealth Tax (b) Income Tax	
	c) Excise duty (d) Corporate Tax	
3.	निम्न में से कौन सा अप्रत्यक्ष कर है ? (क) संपदा कर (ख) आय कर (ग) उत्पाद कर (घ) कॉर्पोरेट कर	
4.	Read the following statements : Assertion (A) and Reason (R). Choose the correct alternative from those given below : - <u>Assertion(A)</u> : The maximum value of Marginal Propensity to Save (MPS) can be unity. <u>Reason (R)</u> : - At the break-even level of income, savings are zero <u>Alternatives</u> : - a) Both Assertion (A) and Reason(R) are true and Reason (R) is the correct explanation of Assertion (A). b) Both Assertion (A) and Reason(R) are true, but Reason (R) is not the correct explanation of Assertion (A).	(1)

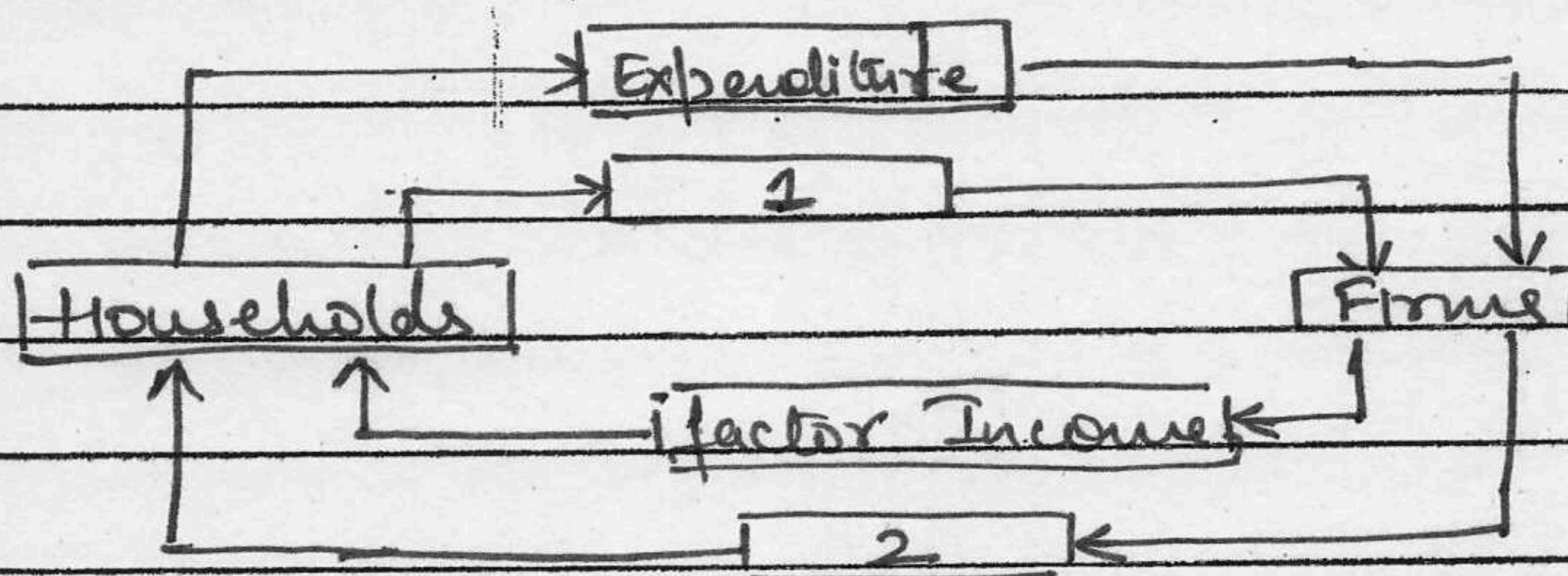
Q. No.	Question	Marks
	<p>c) Assertion (A) is true, but Reason (R) is false</p> <p>d) Assertion (A) is false, but Reason (R) is true.</p> <p>निम्नलिखित कथनों का अध्ययन कीजिए :</p> <p>अभिकथन (A) और कारण (R) नीचे दिए गए विकल्पों में से सही विकल्प चुनिए :</p> <p><u>अभिकथन (A)</u> : सीमांत वन्यत प्रवृत्ति (MPS) का अधिकतम मूल्य इकाई हो सकता है,</p> <p><u>कारण (R)</u> : आय के समस्तर पर, वन्यत शून्य होती है।</p> <p>विकल्प :-</p> <p>(क) अभिकथन (A) और कारण (R) दोनों सत्य हैं और कारण (R), अभिकथन (A) की सही व्याख्या करता है।</p> <p>(ख) अभिकथन (A) और कारण (R) दोनों सत्य हैं लेकिन कारण (R), अभिकथन (A) की सही व्याख्या नहीं करता है।</p> <p>(ग) अभिकथन (A) सत्य है, लेकिन कारण (R) असत्य है।</p> <p>(घ) अभिकथन (A) असत्य है, लेकिन कारण (R) सत्य है।</p>	

Q. No.	Question	Marks
5.	<p>Read the following statements carefully and choose the correct alternative given below:-</p> <p><u>Statement 1</u>: foreign exchange includes the reserve of foreign currency gold with the domestic country.</p> <p><u>Statement 2</u>: Borrowings includes the borrowings by residents from the residents abroad.</p> <p>Alternatives:-</p> <p>(A) Both the statements are true</p> <p>(B) Both the statements are false</p> <p>(C) Statement 1 is true and 2 is false</p> <p>(D) Statement 1 is false and 2 is true</p>	
5.	<p>निम्नलिखित कथनों का ध्यानपूर्वक अध्ययन कीजिए:-</p> <p><u>कथन 1</u> - विदेशी मुद्रा में देश के भीतर विदेशी मुद्रा और सोने का भंडार होता है।</p> <p><u>कथन 2</u> - उधार में निवासी द्वारा विदेश में अन्य निवासियों से लिया गया उधार शामिल होता है।</p> <p>दिए गए कथनों के आलोक में, निम्न -</p>	

Q. No.	Question	Marks
	लिखित में से सही विकल्प का चयन कीजिए। (क) कथन 1 और 2 दोनों सत्य हैं। (ख) कथन 1 और 2 दोनों असत्य हैं। (ग) कथन 1 सत्य है और कथन 2 असत्य है। (घ) कथन 1 असत्य है और कथन 2 सत्य है।	

6. Read the following diagram carefully and choose the correct pair from the alternative given below: -

(1)



Alternatives: -

- Factor services, Goods & Services
- Real flow, Nominal flow
- Goods & Services, Factor Payment
- National Income, Domestic Income

6. निम्नलिखित चित्र का ध्यान पूर्वक अध्ययन करें, और सही विकल्प का चयन करें :-

Q. No.	Question	Marks
	<p>विकल्प :-</p> <p>(क) वित्तिक सेवाएँ, वस्तुएँ एवं सेवाएँ</p> <p>(ख) वास्तविक प्रवाह, नाममात्र प्रवाह</p> <p>(ग) वस्तुएँ एवं सेवाएँ, वित्तिक मुद्रांतर</p> <p>(घ) राष्ट्रीय आय ; द्यौलत आय</p>	
7	<p>For the commercial banks, the source of profit is:-</p> <p>a) Unclaimed deposits</p> <p>b) Grants by the Government</p> <p>c) Difference between interest they charge and pay.</p> <p>d) Reserves of foreign exchange.</p>	(1)
7.	<p>वाणिज्यिक बैंकों के लिए लाभ का स्रोत है:-</p> <p>(क) सरकार द्वारा दिए गए अनुदान</p> <p>(ख) अविकलेषित जमा</p>	

Q. No.	Question	Marks
	(ग) व्यय का अंतर जो वे चार्ज करते हैं और भुगतान करते हैं।	
	(घ) विदेशी मुद्रा भंडार.	
8.	Suppose you are a member of the Advisory Committee to the finance minister of this economy. The finance minister is concerned about the rising Revenue deficit in the budget. Suggest any one measure to control the Rising revenue deficit of the government: -	(1)
	a) To reduce government administrative expenses	
	b) To reduce the burden of subsidy	
	c) To increase taxation	
	d) All of these	
8.	मान लीजिए कि आप अर्थव्यवस्था के वित्त मंत्री की सलाहकार समिति के सदस्य हैं, वित्त मंत्री बजट में बढ़ते राजस्व घाटे को लेकर चिंतित हैं, सरकार के बढ़ते राजस्व घाटे को नियंत्रित करने के लिए एक उपाय सुझाएं :- (क) सरकारी प्रशासनिक खर्चों को कम करना	

Q. No.	Question	Marks
	(ख) सब्सिडी के बोझ को कम करना	
	(ग) कराधान बढ़ाना	
	(घ) इन सभी	
9.	Balance of Payment is in equilibrium when:-	
	a) Current account balance + Capital Account balance $>$ Zero	
	b) Current account balance + Capital account balance $<$ Zero	(1)
	c) Current account balance + Capital account balance $=$ Zero	
	d) None of these	
9.	भुगतान संतुलन, तब संतुलित होता है जब:-	
	(क) चालू खाता + पूंजी खाता संतुलन $>$ शून्य हो	
	(ख) चालू खाता + पूंजी खाता संतुलन $<$ शून्य हो	
	(ग) चालू खाता + पूंजी खाता संतुलन $=$ शून्य हो	
	(घ) इन में से कोई नहीं।	
10	State, whether the given statement is true or false:-	
	'Expenditure on Ujjwala Yojana launched by the Government is an example of Capital expenditure.'	(1)
	उल्लेख करें कि, दिया गया कथन सत्य	

Q. No.	Question	Marks
	अथवा असत्य है :- सरकार द्वारा लागू की गई उज्ज्वला योजना पर किया गया व्यय, पूँजीगत व्यय का एक उदाहरण है।	

11(A) How can externalities be a limitation of using GDP (Gross Domestic Product) as an index of welfare? (3)

11 बाह्यताएँ सकल घरेलू उत्पाद (GDP) को कल्याण के सूचकांक के रूप में उपयोग करने में कैसे एक सीमा हो सकती है?

[OR]

11(B) Calculate Net Value Added at Factor Cost (NVA_{FC}) from the following data -

S.No	Particulars	Amount (in ₹ Crores)
(i)	Value of Output	800
(ii)	Intermediate Consumption	200
(iii)	Indirect Tax	30
(iv)	Depreciation	20
(v)	Subsidies	50
(vi)	Purchase of machinery	50

Q. No.	Question	Marks
	निम्नलिखित आंकड़ों द्वारा सोधन लागत पर कुल मूल्य वृद्धि (NVA _{FC}) की गणना करें:-	
क्र.सं.	विवरण	रु.सि. (इकरोड़ में)
(i)	उत्पादन का मूल्य	800
(ii)	मध्यवर्ती उपभोग	200
(iii)	अप्रत्यक्ष कर	30
(iv)	मूल्य ह्रास	20
V	उत्पादन	50
(vi)	मशीन का क्रय	50

19. Elaborate the objective of 'allocation of resources' in the Government Budget. (3)
12. सरकारी बजट में 'संसाधनों के आवंटन' के उद्देश्य की व्याख्या करें।

13(A) Explain the function of Central Bank as 'Banker, Agent and Advisor' of the Government. (4)

केन्द्रीय बैंक के 'सरकार के बैंकर, एजेंट तथा सलाहकार' के कार्य की व्याख्या करें

(OR)

13(B) Elaborate, how central Bank stabilize money supply through 'open market operation'.

Q. No.	Question	Marks
	समझाए कि, केन्द्रीय बैंक किस प्रकार 'ओपन मार्केट ऑपरेशन (ओ एमओ)' द्वारा मुद्रा पूर्ति में स्थिरता लाता है।	
14.	For a hypothetical economy, assume the government increased an infrastructural investment by ₹20,000 crores. 80% of additional income is consumed in the economy. Estimate the increase in income and the corresponding increase in consumption expenditure in the economy.	(4)
14	एक काल्पनिक अर्थव्यवस्था के लिए, यह मान लीजिए कि सरकार ₹20,000 करोड़ का बुनियादी ढांचागत निवेश करेगी। अर्थव्यवस्था में अतिरिक्त आय का 80% उपभोग होता है। अर्थव्यवस्था में आय में वृद्धि तथा उससे अनुरूप उपभोग व्यय में वृद्धि का आकलन कीजिए।	
15.	"Depreciation of currency may promote exports of a nation". Defend or refute the given statement with valid argument	(4)

Q. No.	Question	Marks
	<p>मुद्रा का मूल्य किस किसी राष्ट्र के निर्यात को प्रोत्साहित कर सकता है।</p> <p>मान्य तर्कों के साथ दिए गए कथन का समर्थन या खंडन कीजिए।</p>	
16. (a)	<p>'Real Gross Domestic Product' is a better indicator of economic growth than 'Nominal Gross Domestic Product'.</p> <p>Do you agree with the given statement? Support your answer with a suitable numerical example.</p>	3
(b)	<p>How will the following be treated while estimating national income of India? Give reasons:-</p> <p>(i) Value of bonus shares received by shareholders of a company.</p> <p>(ii) Fees received from students.</p> <p>(iii) Interest received on loan given to a foreign company in India.</p>	3
16. (b) 4	<p>वास्तविक सकल घरेलू उत्पाद को नाममात्र सकल घरेलू उत्पाद की तुलना में आर्थिक विकास का एक बेहतर संकेतक है।</p>	4

Q. No.	Question	Marks
	<p>क्या आप दिए गए बयान से सहमत हैं? एक उपयुक्त संख्यात्मक आहरण के साथ अपने उत्तर का समर्थन करें।</p> <p>(b) भारत की राष्ट्रीय आय का अनुमान लगाते समय निम्नलिखित को किस प्रकार माना जाएगा? कारण बताइए :-</p> <ol style="list-style-type: none"> i) किसी कंपनी के शेयरधारकों को प्राप्त बोनस शेयरों का मूल्य ii) छात्रों से प्राप्त की गई फीस iii) भारत में स्थित किसी विदेशी कंपनी को दिए गए ऋण पर प्राप्त ब्याज 	
	<u>[OR]</u>	
16(B)	(a) Explain Income method to calculate National Income.	3
	(b) Differentiate between final good and intermediate good.	3
16(B)	(a) राष्ट्रीय आय की गणना के लिए आय विधि की व्याख्या करें।	
	(b) अंतिम वस्तुओं और मध्यवर्ती वस्तुओं में अंतर स्पष्ट कीजिए।	

Q. No.	Question	Marks
17(a)	Define Effective Demand.	2
(b)	Discuss how effective demand can be restored if ex-ante saving is less than ex-ante investment.	4
17.	(a) प्रभावी माँग को परिभाषित करें, b) विवेचना करें, यदि प्रत्याशित बचत प्रत्याशित निवेश से कम हो तो, किस प्रकार प्रभावी माँग को बहाल किया जा सकता है।	

SECTION B - INDIAN ECONOMIC DEVELOPMENT
खण्ड - 2b - भारतीय अर्थव्यवस्था का विकास

18.	Great Proletarian Cultural Revolution was introduced under the leadership of _____ (choose the correct alternative)	(1)
	(a) Mao Zedong (b) J. L. Nehru c) M. K. Gandhi d) M. A. Jinnah	
	महान सर्वहारा सांस्कृतिक प्रगति _____ के नेतृत्व में लागू की गई थी। (सही विकल्प का चयन करें)	
	(क) माओ जिङ्ग (ख) ज. ल. नेहरू (ग) मो. क. गांधी (घ) मु. अ. जिन्ना	

Q. No.	Question	Marks
19	<p>Read the following statements carefully and choose the correct alternatives given below:-</p> <p><u>Statement 1</u>: Export promotion is a strategy to save foreign exchange.</p> <p><u>Statement 2</u>: Import substitution is a strategy to earn foreign exchange.</p> <p><u>Alternatives</u>:-</p> <p>a) Both the statements are true</p> <p>b) Both the statements are false</p> <p>c) Statement 1 is true and Statement 2 is false</p> <p>d) Statement 2 is true & Statement 1 is false.</p>	(1)
19	<p>निम्नलिखित कथनों का ध्यानपूर्वक अध्ययन कीजिए:-</p> <p>कथन 1: निर्यात प्रोत्साहन विदेशी मुद्रा अर्जन की एक रणनीति है।</p> <p>कथन 2: आयात प्रतिस्थापन विदेशी मुद्रा अर्जन करने की एक रणनीति है।</p> <p>दिए गए कथनों के आलोक में, निम्न -</p>	

Q.No.

लिखित में से सही विकल्प का चयन कीजिए:-

- (क) कथन 1 और कथन 2 दोनों सत्य हैं।
- (ख) कथन 1 और कथन 2 दोनों असत्य हैं।
- (ग) कथन 1 सत्य है और कथन 2 असत्य है।
- (घ) कथन 1 असत्य है और कथन 2 सत्य है।

20. Which of the following is not a benefit of organic farming? (Choose the correct alternative)

- a) Cheaper inputs
- b) Attractive returns on investment
- c) Greater import possibilities
- d) Higher nutritional value.

(1)

20 निम्नलिखित में से क्या जैविक कृषि का एक लाभ नहीं है ?

- (क) सस्ते आगत (ख) आकर्षक निवेश के प्रतिफल
- (ग) आयात की अधिक संभावनाएँ
- (घ) उच्च पोषण मान

21. State whether the following is 'true' or 'false': -

(1)

"World Bank is also known as International Bank for Registration and Delimitation (IBRD)".

उत्तर दें कि, निम्नलिखित कथन सत्य अथवा असत्य है :-

विश्व बैंक का पंजीकरण तथा पश्चिम के अंतर्राष्ट्रीय बैंक (IBRD) के नाम से भी जाना जाता है।

22. From the type of workers given in Column I, identify the correct nature of work in Column II: (1)

Column I	Column II
1. Cement shop owner	(i) Regular salaried
2. Construction worker	(ii) Casual wage worker
3. Civil engineer	(iii) Self employed

Alternatives:-

- (A) 1-(i), 2-(ii), 3-(iii) (B) 1-(iii), 2-(ii), 3-(i)
 (C) 1-(iii), 2-(i), 3-(ii) (D) 1-(ii), 2-(i), 3-(iii)

22. कॉलम I में दिए श्रमिकों के प्रकार से कॉलम II में दिए गए कार्य की प्रकृति की सही पहचान कीजिए

कॉलम I	कॉलम II
1. सीमेंट की दुकान का मालिक	(i) नियमित वेतनभोगी
2. निर्माण मजदूर	(ii) आवधिक दिहाड़ी मजदूरी
3. सिविल अभियंता	(iii) स्व-नियोजित

विकल्प:-

- (क) 1-(i), 2-(iii), 3-(ii) (ख) 1-(iii), 2-(i), 3-(ii)
 (ग) 1-(ii), 2-(iii), 3-(i) (घ) 1-(iii), 2-(ii), 3-(i)

23 Introduction of Economic Reform in China.

took place in the year _____
[Choose the correct alternative]

(a) 1978 (b) 1980 (c) 1988 (d) 1991

चीन में आर्थिक सुधार वर्ष _____ में लागू किए गए थे।
(सही विकल्प का चयन करें।)

(क) 1978 (ख) 1980 (ग) 1988 (घ) 1991

24. Identify the alternate marketing channel that operates majorly in Punjab, Haryana and Rajasthan. (Choose the correct alternative)

(A) Apni Mandi (B) Hadaspur Mandi
(c) Rythu Bazar (D) Uzhavar Sandies.

उस वैकल्पिक विपणन चैनल की पहचान कीजिए जो मुख्यतः पंजाब, हरियाणा व राजस्थान में संचालित होते हैं।
(सही विकल्प का चयन कीजिए)

(क) अपनी मंडी (ख) हड़प्सा मंडी

(ग) रायूथ बाजार (घ) उझावर सैंडि

25. Identify the correct statement from the following:—

(A) India adopted the socialist economic system after independence.

(B) Indian economic planning was implemented by the Government of India.

(C) Land reforms under industrial sector were implemented by the Government of India

(D) Policy initiative in the industrial sector were responsible for decline in Gross Domestic Product (GDP) in India.

25 निम्न लिखित में से सही कथन की पहचान कीजिए :-

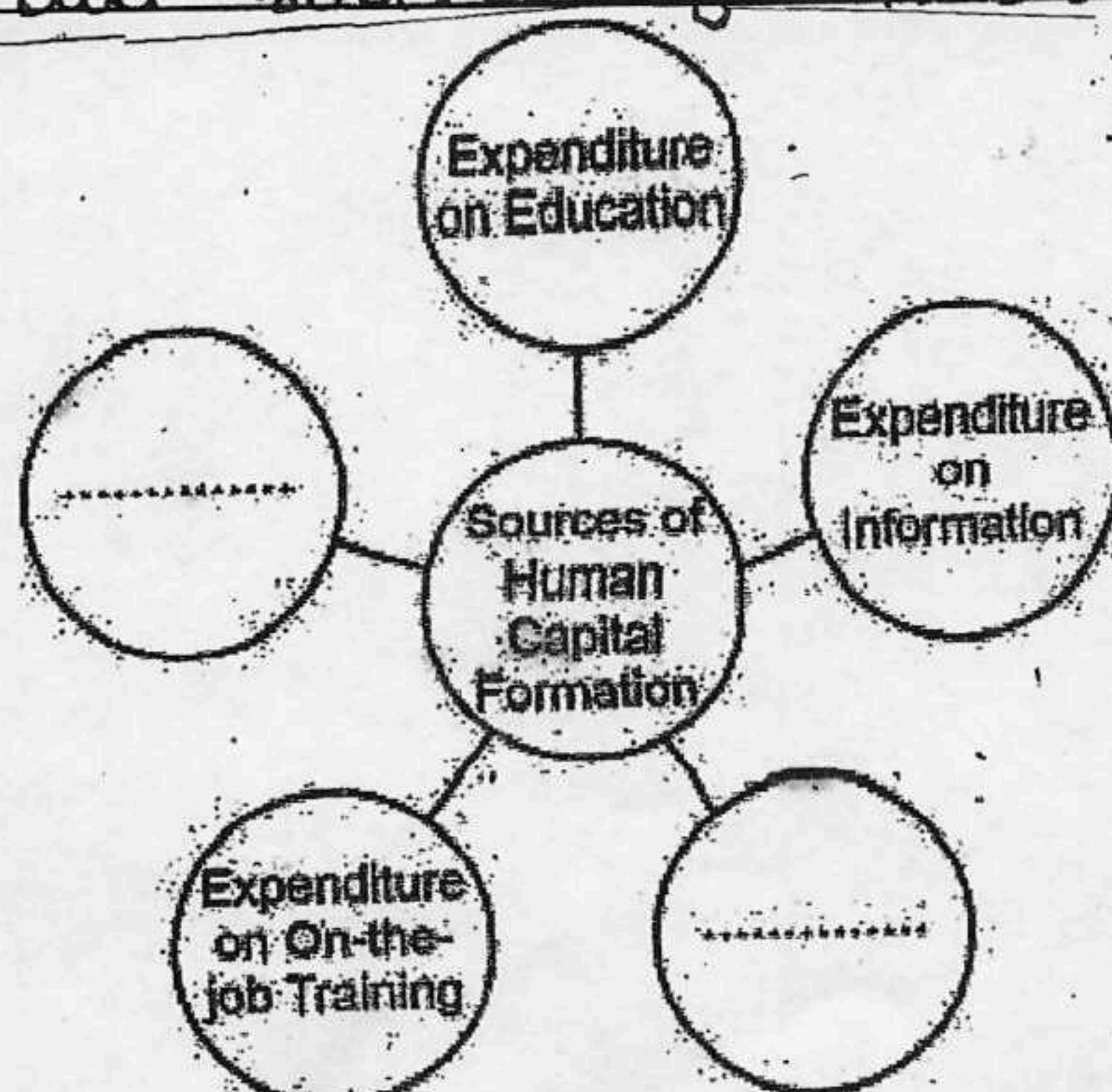
(क) स्वतंत्रता उपरान्त, भारत ने समाजवादी अर्थव्यवस्था अपनाई थी।

(ख) भारतीय आर्थिक नियोजन को पंचवर्षीय योजनाओं के माध्यम से लागू किया गया था।

(ग) भारत सरकार द्वारा औद्योगिक क्षेत्र के अंतर्गत भूमि सुधारों को लागू किया गया था।

(घ) भारत में सकल घरेलू उत्पाद (GDP) में गिरावट के लिए औद्योगिक क्षेत्र में नीतिगत पक्ष जिम्मेदार थे।

26 Identify the sources of human capital formation and choose



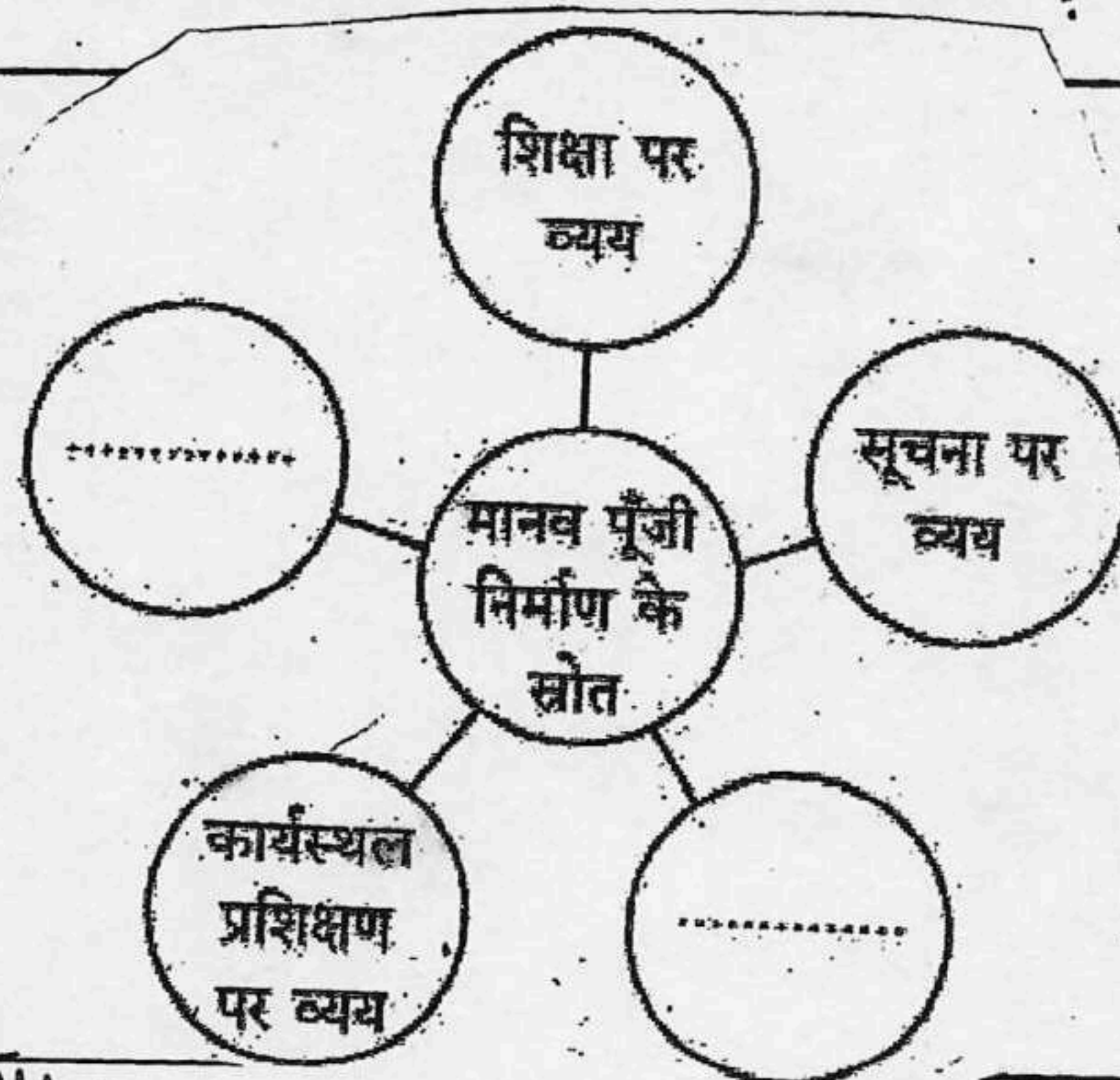
the correct alternative to fill in the blank :-

1

Alternatives:-

- (A) Expenditure on Health and Expenditure on schools
- B) Expenditure on Technology and Expenditure on Knowledge
- C) Expenditure on Migration and expenditure on Knowledge
- D) Expenditure on Health and expenditure on Migration.

26. मानव पूंजी निर्माण के स्रोतों की पहचान कीजिए व रिक्त स्थान भरने के लिए सही विकल्प का चयन कीजिए !




विकल्प :-

- (क) स्वास्थ्य पर व्यय व विद्यालयों पर व्यय
- (ख) तकनीक पर व्यय व ज्ञान पर व्यय
- (ग) प्रवासन पर व्यय व ज्ञान पर व्यय
- (घ) स्वास्थ्य पर व्यय व प्रवासन पर व्यय

27. Define Mixed economy.

मिश्रित अर्थव्यवस्था को परिभाषित करें ।

28. Identify the situation depicted in the given figure and any one strategy to effectively overcome the problem. (3)



Source:—

<https://www.un.org/en/climate>

[change/raising-ambition](https://www.un.org/en/climate)


[/why-invest-renewable-energy](https://www.un.org/en/climate)

[energy.](https://www.un.org/en/climate)

Note:—The following question is for the visually impaired candidates only in lieu of Q No. 28.

Explain any one strategy to effectively overcome the problem of global warming. 3

28. दिए गए चित्र में दर्शाई गई परिस्थिति की पहचान कीजिए तथा इस समस्या पर नियंत्रण पाने के लिए किसी एक प्रभावी राजनीति की व्याख्या कीजिए



Source: <https://www.un.org/en/climate>

[change/raising-ambition/why-invest-renewable-energy](https://www.un.org/en/climate)

[-renewable-energy.](https://www.un.org/en/climate)

नोट: निम्नलिखित प्रश्न केवल - दृष्टिबाधित
पारिहारिक के लिए प्रश्न संख्या 28 के
स्थान पर है।

वैश्विक उद्योगिता की समस्या पर प्रभावी
ढाँचा से नियंत्रण पाने के लिए किसी
एक रणनीति की व्याख्या की जाए

29(A) "Recently, the Government of India
launched Jan-Dhan Yojana".

In the light of the given statement,
discuss briefly the objectives of this 3
scheme

OR

29(B) "The Government of India has taken
various measures to align the
agricultural marketing system with the
growing production activities in the 3.
rural areas".

Do you agree with the given
statement? Give any two valid
reasons in support of your answer.

29(क) "हाल में, भारत सरकार ने जन-धन योजना
की शुरुआत की थी।"

दिए गए कथन के आलोक में, इस योजना
के उद्देश्यों की संक्षेप में चर्चा की जाए

अथवा

(ख) भारत सरकार ने, कृषि विपणन प्रणाली को ग्रामीण क्षेत्रों में बढ़ती उत्पादन गतिविधियों के साथ संरेखित करने के लिए कई कदम उठाए हैं।

क्या आप दिए गए कथन से सहमत हैं? अपने उत्तर के समर्थन में कोई दो वैध कारण दीजिए।

30(A) Discuss briefly any two salient features of India's pre-independence occupational structure.

(4)

OR

(B) Discuss briefly the rationale behind choosing 'self-reliance' as a planning objective for Indian economy.

30 (क) स्वतंत्रता पूर्व भारत की व्यावसायिक संरचना की किन्ही दो प्रमुख विशेषताओं का संक्षेप में वर्णन करें।

अथवा

(ख) भारतीय अर्थव्यवस्था के योजना उद्देश्य के रूप में 'आत्मनिर्भरता' के चयन के औचित्य का संक्षेप में विवेचन करें।

31. Though public sector is very essential for industries, many public sector incur huge losses and are a drain on the economy's resources. Examine

Q No

Questions

Marks

the usefulness of public sector undertaking in the light of this fact.

" हालांकि सार्वजनिक क्षेत्र उद्योगों के लिए अत्यंत महत्वपूर्ण है, कई सार्वजनिक क्षेत्र के उपक्रम भारी नुकसान उठाते हैं और अर्थव्यवस्था के संसाधनों पर बोझ बन जाते हैं।" इस तथ्य के प्रकाश में सार्वजनिक क्षेत्र के उपक्रमों की उपयोगिता की जाँच करें।

32. The following table shows distribution of workforce in India for the year 1972-73. Compare and contrast (4) the nature of workforce distribution in rural and urban areas:-

Place of Residence	Workforce (in millions)		
	Male	Female	Total
Rural	125	69	194
Urban	32	7	39

32 साल 1972-73 के लिए भारत में श्रमबल का वितरण दिखाने वाली तालिका निम्नलिखित है। ग्रामीण और शहरी क्षेत्रों में श्रमबल के वितरण की प्रकृति की तुलना और विपरीतता करें:-

स्थान	श्रमबल (मिलियन में)		
	पुरुष	महिला	कुल
ग्रामिण	125	69	194
शहरी	32	7	39

33

(A)

How has women's health become a matter of great concern in India? Explain. 3

(b) Discuss briefly, why agricultural diversification is essential for sustainable livelihood. 3

OR

33(B) a) "In developed countries like USA salaries are higher than developing economies like India." Evaluate this using your knowledge of relationship between Human Capital formation and economic development. 4

(b) Give meaning of Jobless Growth. 2.

33 A (a) भारत में महिलाओं के स्वास्थ्य को लेकर चिंता का विषय कैसे बन गया है? स्पष्ट करें।

(b) कृषि विविधीकरण स्याही जीवनयापन के लिए क्यों आवश्यक है, संक्षेप में चर्चा करें।

अथवा
 B (a) "विकासित देशों जैसे अमेरिका में वेतन, विकासशील अर्थव्यवस्थाओं जैसे भारत की तुलना में अधिक है"। इस संबंध में मानव पूंजी निर्माण और आर्थिक विकास के बीच के संबंध के आधार पर मूल्यांकन करें।

b) पंजीकरी रहित वृद्धि का अर्थ बताएं

34. → Read the Passage carefully:-

India and China have both experienced rapid economic growth over the last few decades, but their paths have differed significantly. India has a mixed economy with both public and private sector participation, while China has implemented extensive economic reforms and opened up its economy to international trade and investment.

In the light of above answer the following questions:-

1. Compare the strategies adopted by India and China for economic development. How have these strategies influenced their economic growth?

2. Evaluate the impact of these strategies on the standard of living (3) and poverty levels in both countries.

34. निम्न गद्यांशों को ध्यान से पढ़ें :-

भारत और चीन ने पिछले कुछ दशकों में तेजी से आर्थिक विकास का अनुभव किया है, लेकिन उनके रास्ते काफी अलग रहे हैं।

भारत की मिश्रित अर्थव्यवस्था है जिसमें सार्वजनिक और निजी क्षेत्र की भागीदारी है, जबकि चीन ने व्यापक आर्थिक सुधार किए हैं और अपनी अर्थव्यवस्था को अंतर्राष्ट्रीय व्यापार और निवेश के लिए खोल दिया है।

निम्न प्रश्नों का उत्तर दें :-

1. भारत और चीन द्वारा अपनाए गए आर्थिक विकास की रणनीतियों की तुलना करें। इन रणनीतियों से उनके आर्थिक विकास को कैसे प्रभावित किया है ? 3

2. इन रणनीतियों के प्रभाव को दोनों देशों में जीवन स्तर और गरीबी स्तर पर मूल्यांकन करें। 3